

کل نمبر: 10: واقفیت عامہ (سوئم) ٹیسٹ نمبر 5 وقت: 10 منٹ




پانچواں مہینا، تیسرا ہفتہ، پانچواں دن اسلیپس: باب نمبر 12 (دوسرا نصف): مشق سوال نمبر 2 (iv), (v)، سوال نمبر 3

سوال نمبر 1۔ درج ذیل سوالات کے مختصر جواب لکھیں۔ (2.5x2=5)

(i) بجلی کے کوئی سے تین گھریلو استعمال لکھیں۔

(ii) سورج کی توانائی کس طرح زمین تک پہنچتی ہے؟

سوال نمبر 2۔ درج ذیل اشیاء توانائی سے چلتی ہیں، ان کو درکار توانائی کس ذریعے سے حاصل ہوتی ہے؟ (5)

تصادیر	ذریعہ
	
	
	
	
	

کل نمبر: 10: واقفیت عامہ (سوئم) ٹیسٹ نمبر 5 وقت: 10 منٹ

پانچواں مہینا، تیسرا ہفتہ، پانچواں دن اسلیپس: باب نمبر 12 (دوسرا نصف): مشق سوال نمبر 2 (iv), (v)، سوال نمبر 3

سوال نمبر 1۔ درج ذیل سوالات کے مختصر جواب لکھیں۔ (2.5x2=5)

(i) بجلی کے کوئی سے تین گھریلو استعمال لکھیں۔

(ii) سورج کی توانائی کس طرح زمین تک پہنچتی ہے؟

سوال نمبر 2۔ درج ذیل اشیاء توانائی سے چلتی ہیں، ان کو درکار توانائی کس ذریعے سے حاصل ہوتی ہے؟ (5)

تصادیر	ذریعہ
